



ВСЕРОССИЙСКАЯ ОЛИМПИАДА ШКОЛЬНИКОВ 2019/2020 гг.
МУНИЦИПАЛЬНЫЙ ЭТАП
ТЕХНОЛОГИЯ
КУЛЬТУРА ДОМА, ДИЗАЙН И ТЕХНОЛОГИИ

7 КЛАСС

Шифр участника









51187РКС

Критерии оценки вопросов с 1 по 19 – 1 балл за правильный ответ,
творческое задание (20 вопрос) – 6 баллов.

Технологии производства и обработки пищевых продуктов

Выберите правильный ответ

1. Внимательно посмотри на картинку. Выбери посуду, которую используют для подачи блюд.

			
1	2	3	4
			
5	6	7	8

а) 1, 4, 5, 7

б) 1, 4, 5, 6

в) 1, 3, 4, 5

г) 2, 3, 6, 7, 8

2. Какое требование к качеству готовых бутербродов является неправильным?

а) Готовятся непосредственно перед подачей

б) Ломтик хлеба должен быть толщиной 2 см

в) Хлеб должен быть полностью покрыт продуктами

г) Срок хранения в холодильнике при $t=+2...+6^{\circ}\text{C}$ не более 3-х суток

3. Вы собираетесь в поход с 25 июня по 7 июля 2019 года, и пришли в магазин, чтобы купить рыбные консервы. На банке выбиты следующие даты. Что Вы купите?

а) 03.06.2018; 03.06.2019

б) 25.06.2017; 07.08.2018

в) 19.01.2018; 19.01.2019

г) 29.08.2018; 29.08.2019



ВСЕРОССИЙСКАЯ ОЛИМПИАДА ШКОЛЬНИКОВ 2019/2020 гг.
МУНИЦИПАЛЬНЫЙ ЭТАП
ТЕХНОЛОГИЯ
КУЛЬТУРА ДОМА, ДИЗАЙН И ТЕХНОЛОГИИ
7 КЛАСС

Шифр участника 2087 РКС
Материаловедение текстильных материалов

4. Расставьте по порядку операции первичной обработки льна:

- а) сминание,
- б) замачивание,
- в) высушивание,
- г) трепание.

Ответ: 1 - а, 2 - б, 3 - г, 4 - в.

Выберите все правильные ответы


5. Для технических нужд во многих отраслях народного хозяйства используются:

- ☒ а) брезент,
- ☒ б) парусина,

- ☒ в) парча,
- ☒ г) бархат.

Машиноведение

6. Современные бытовые швейные машинки облегчают работу любителей и профессионалов и просты в использовании. А что означают изображения черепахи и зайчика на корпусе?



Ответ: Скорость

Выберите все правильные ответы

7. Чаще всего к обрыву верхней нити приводят следующие причины:

- ☒ а) толщина нити не соответствует выбранной игле;
- ☒ б) ошибки в заправке;
- ☒ в) установлена нить плохого качества, с неравномерной толщиной и узелками;
- ☒ г) игла установлена неправильно, она погнута или не соответствует типу машины;
- ☒ д) излишнее натяжение верхней нити.



ВСЕРОССИЙСКАЯ ОЛИМПИАДА ШКОЛЬНИКОВ 2019/2020 гг.
МУНИЦИПАЛЬНЫЙ ЭТАП
ТЕХНОЛОГИЯ

КУЛЬТУРА ДОМА, ДИЗАЙН И ТЕХНОЛОГИИ


7 КЛАСС

Шифр участника

ШФ = РКС

Конструирование и моделирование швейных изделий

8. Постройте выкройки мешка для школьной обуви, высота мешка – 40 см, диаметр днища – 25 см. Если для построения вам понадобятся математические формулы, напишите их.



Ответ:

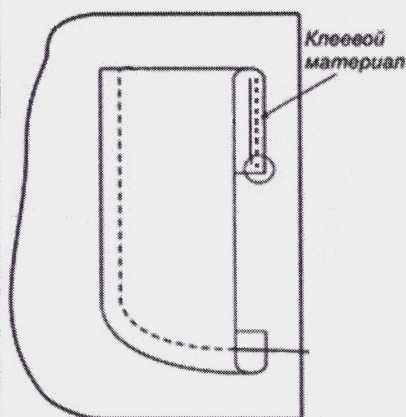
Формула $2\pi r$ $2 \cdot 3,14 \cdot (25 : 2) = 78,5$

9. Перечислите швы, где может располагаться застежка в прямой юбке?

Ответ: Боковой, задний, иногда в месте вогнутостей в зависимости от изделия.

Технология изготовления швейных изделий

10. Приведите правильную последовательность обработки накладного кармана:





ВСЕРОССИЙСКАЯ ОЛИМПИАДА ШКОЛЬНИКОВ 2019/2020 гг.
МУНИЦИПАЛЬНЫЙ ЭТАП
ТЕХНОЛОГИЯ
КУЛЬТУРА ДОМА, ДИЗАЙН И ТЕХНОЛОГИИ
7 КЛАСС

Шифр участника _____

- а) удалить стежки временного назначения;
- б) обметать верхний срез цельнокроеной обтачки накладного кармана;
- в) заутюжить цельнокроеную обтачку по контрольным знакам на изнаночную сторону кармана;
- г) приутюжить карман в готовом виде;
- д) приметать накладной карман к детали швейного изделия по контрольным знакам;
- е) приклеить клеевой прокладочный материал к цельнокроеной обтачке кармана;
- ж) заутюжить припуски на обработку кармана по трём сторонам;
- з) настроить карман на деталь швейного изделия.

Ответ: 1 - е, 2 - б, 3 - д, 4 - ж, 5 - з, 6 - з, 7 - а, 8 - г.

Выберите правильный ответ

11. При раскрое изделия в первую очередь на ткани размещают:

- ☒ а) большие детали (полочки, рукава, полотнища юбки);
- б) маленькие детали (клапана, обтачки, манжеты).

История костюма

Выберите все правильные ответы

12. Что такое дресс-код (dress code)?

- а) требования к офисной одежде сотрудников;
- ☒ б) форма одежды, требуемая при посещении определенных мероприятий, организаций, заведений;
- в) комплект одежды, обуви и аксессуаров, подобранных из вещей одного бренда;
- г) манера одеваться в определенной социальной группе.

Выберите все правильные ответы

13. Что отличает морской стиль от других?

- ☒ а) бело-сине-красное сочетание цветов;
- б) кружева и рюши;
- ☒ в) основной рисунок – полоска;
- ☒ г) украшения с изображением якорей, цепей, морских звезд.



ВСЕРОССИЙСКАЯ ОЛИМПИАДА ШКОЛЬНИКОВ 2019/2020 гг.
МУНИЦИПАЛЬНЫЙ ЭТАП
ТЕХНОЛОГИЯ

КУЛЬТУРА ДОМА, ДИЗАЙН И ТЕХНОЛОГИИ


7 КЛАСС

Шифр участника

ШКОЛ 7 РК С

Технологии в сфере быта

14. Выбери из представленных изображений главные элементы зоны приготовления пищи



15. Мебель и оборудование на кухне расставляется по принципу рабочего треугольника. Что входит в этот треугольник. Выбери правильный ответ.

- а) мойка, плита, холодильник
- б) стол, мойка, плита**
- в) холодильник, стол, мойка
- г) плита, холодильник стол

Художественная обработка материалов

Выберите правильный ответ

16. Выбор диаметра крючка для вязания крючком зависит от

- а) желания мастера,
- б) вида изделия,
- в) типа рисунка,
- г) толщины нитей.**

Социальные технологии

Выберите все правильные ответы

17. Какие факторы необходимо учитывать при оформлении интерьера жилого помещения.

- а) природные условия;
- б) возраст людей;
- в) назначение помещения;**
- г) климатические условия;**
- д) художественные предпочтения; *желательно***
- е) пожелания соседей.



ВСЕРОССИЙСКАЯ ОЛИМПИАДА ШКОЛЬНИКОВ 2019/2020 гг.
МУНИЦИПАЛЬНЫЙ ЭТАП
ТЕХНОЛОГИЯ

КУЛЬТУРА ДОМА, ДИЗАЙН И ТЕХНОЛОГИИ

7 КЛАСС

Шифр участника

118 7РКС

Агрономия

Выберите правильный ответ

18. Какой вид культуры не относится к масленичным:

- а) подсолнечник
- б) горчица
- в) рапс
- ☒ г) горох

Выберите правильный ответ

19. Верхний слой земной коры с рыхлой структурой называется

- а) почва
- ☒ б) гумус
- в) чернозем
- г) глинозем

20. Творческое задание:

Худи — разновидность свитера из мягкого хлопчатобумажного трикотажа или флиса с капюшоном, по российской классификации его связывают с толстовкой. Выступите в роли дизайнера и внесите свои модельные особенности и декорируйте изделие.

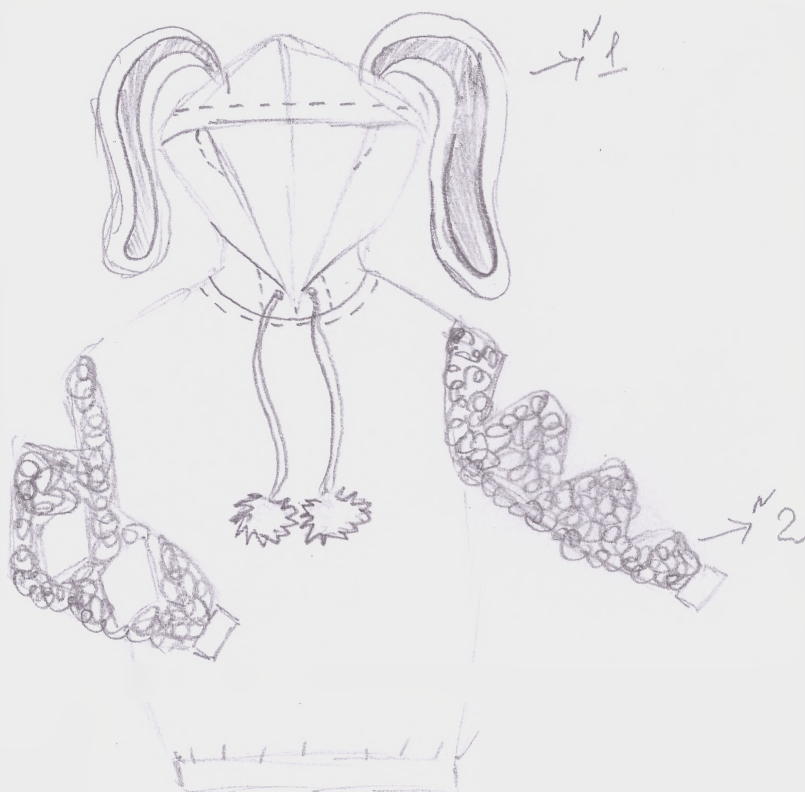

№	Критерии оценки	Баллы max
1	Внесены модельные особенности	2
2	Внесены элементы декора	2
3	Выдержано стилевое направление	1
4	Чистота выполнения задания	1
	Итого	6



ВСЕРОССИЙСКАЯ ОЛИМПИАДА ШКОЛЬНИКОВ 2019/2020 гг.
МУНИЦИПАЛЬНЫЙ ЭТАП
ТЕХНОЛОГИЯ
КУЛЬТУРА ДОМА, ДИЗАЙН И ТЕХНОЛОГИИ
7 КЛАСС

Шифр участника


Шифр 7РКС





заутюжить в сторону более темной
ткани.

Т87РКС





РОССИЙСКАЯ ОЛИМПИАДА ШКОЛЬНИКОВ 2019/2020 гг.
МУНИЦИПАЛЬНЫЙ ЭТАП
ТЕХНОЛОГИЯ

КУЛЬТУРА ДОМА, ДИЗАЙН И ТЕХНОЛОГИИ

7 КЛАСС

Шифр участника

7 PRС

Практическое задание №2


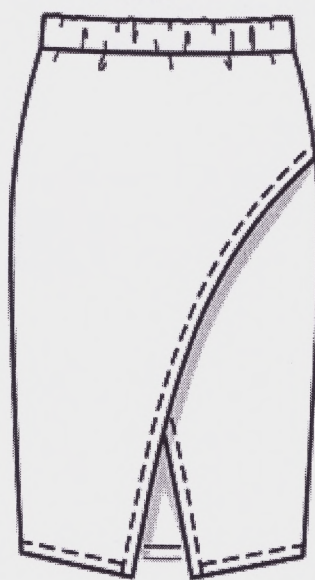
Моделирование юбки по эскизу и подготовка выкройки к раскрою

Порядок выполнения работы

1. На основу чертежа юбки нанесите линии фасона. Выполните моделирование.
2. Изготовьте из цветной бумаги лекала для раскладки на ткани.
3. Нанесите на лекала необходимые надписи для раскроя.



Эскиз



Описание модели

Юбка-карандаш с иллюзией запаха длиной по колено из трикотажного полотна.

Треугольный разрез спереди чуть ниже колена добавляет модели оригинальности. Пояс притачной на широкой эластичной резинке обеспечивает комфорт.



ВСЕРОССИЙСКАЯ ОЛИМПИАДА ШКОЛЬНИКОВ 2019/2020 гг.
МУНИЦИПАЛЬНЫЙ ЭТАП

ТЕХНОЛОГИЯ
КУЛЬТУРА ДОМА, ДИЗАЙН И ТЕХНОЛОГИИ

7 КЛАСС

Шифр участника Tg 7PKC

Карта послеоперационного контроля

№	Критерии оценки	Баллы max	Баллы факт
Нанесение новых линий фасона			
1	Оформлена линия «запаха» переднего полотнища	3	
2	Оформлена линия низа переднего полотнища	3	
3	Изменены вытачки на переднем полотнище	1	
4	Изменена вытачка на заднем полотнище	1	
5	Построен пояс	2	
Подготовка выкроек юбки к раскрою и нанесение надписей на чертеже основы			
6	Указаны названия деталей	2	
7	Указано количество деталей	2	
8	Указано направление долевой нити, сгиба	2	
9	Указана величина припусков на швы	2	
10	Чистота выполнения задания	2	
	Итого	20	



ВСЕРОССИЙСКАЯ ОЛИМПИАДА ШКОЛЬНИКОВ 2019/2020 гг.

МУНИЦИПАЛЬНЫЙ ЭТАП

ТЕХНОЛОГИЯ

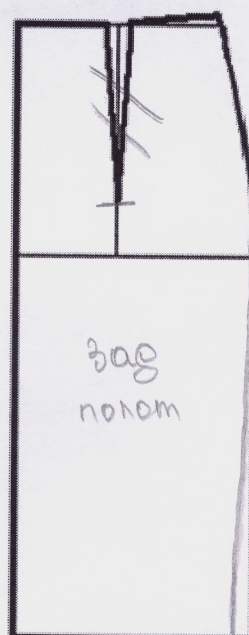
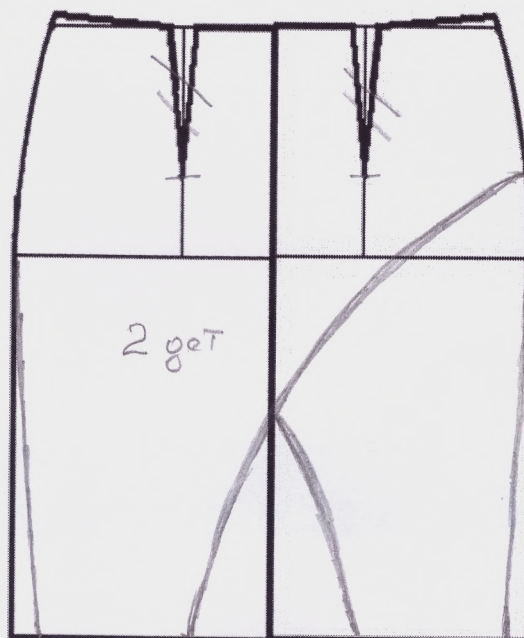
КУЛЬТУРА ДОМА, ДИЗАЙН И ТЕХНОЛОГИИ

7 КЛАСС

Шифр участника Тг + РКС

Нанесение линий фасона

1





ВСЕРОССИЙСКАЯ ОЛИМПИАДА ШКОЛЬНИКОВ 2019/2020 гг.
МУНИЦИПАЛЬНЫЙ ЭТАП

ТЕХНОЛОГИЯ
КУЛЬТУРА ДОМА, ДИЗАЙН И ТЕХНОЛОГИИ

7 КЛАСС

Шифр участника

Т87РКС

Результаты моделирования

